






Prénom :

Nom :

La classification des animaux – Les Mollusques

Au 1^{er} étage, observe à l'aide de la caméra sous-marine les espèces présentes dans les 2 bacs tactiles ; observe l'aquarium de la pieuvre.

Retrouve les animaux du tableau et décris-les en mettant une croix quand ils possèdent le caractère.

Animal	Bigorneau	Huître	Buccin	Coquille Saint-Jacques	Pieuvre
					
Caractère					
Corps mou					
Tentacules entourant la bouche					
Coquille externe					
Coquille en 2 parties (2 valves)					
Coquille en forme de spirale					

Place maintenant le nom de chaque espèce dans le bon cadre.

Corps mou = **Mollusques**

Tentacules entourant la bouche
= **Céphalopodes**

Coquille externe

Coquille en 2 parties (2 valves) = **Bivalves**

Coquille en forme de spirale = **Gastéropodes**

Cite d'autres exemples d'animaux :

- chez les Bivalves :
- chez les Gastéropodes :
- chez les Céphalopodes :